





Ivan je od mame za rođendan dobio vrećicu bombona. U vrećici je bilo 8 bombona. Zaokruži točnu količinu.



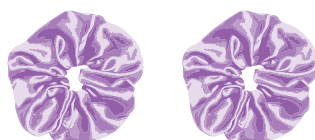
Marija je kupila sladoled od svog džeparca i ostalo joj je 6 eura. Zaokruži točnu količinu.






Luka je mami poklonio buket s 3 ruže i 2 tulipana. Zaokruži točnu količinu. Koliko je ukupno cvjetova u buketu?



Stela je posudila od svoje prijateljice 4 gumice za kosu. Zaokruži točnu količinu.



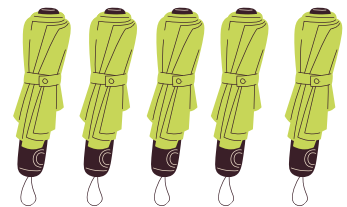
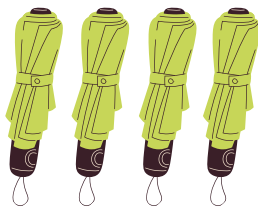
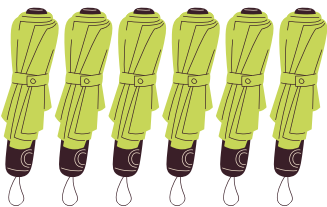
Josip je imao 10 olovaka, ali Marko mu je uzeo 3 olovke. Zaokruži koliko olovaka je ostalo Josipu.






Marta je od mame dobila 5 eura za sladoled, a od bake 3 eura. Zaokruži koliko eura Marta sada ima.



Ante je u kući imao 7 kišobrana, ali njegov pas Riki pokidao je 2 kišobrana. Zaokruži koliko kišobrana je ostalo Anti.



Sara je na putu do trgovine pronašla 4 kestena, a na povratku još 3 kestena. Zaokruži koliko je kestena Sara pronašla.



Anica ima 3 naranče i njezina mama dala joj je još 4 naranče. Fran je imao 9 naranči, ali mu je mlađi brat pojeo 2 naranče. Tko ima više naranči, Anica ili Fran?


Napiši točne račune i izračunaj.

R: _____

O: _____

Zaokruži točnu količinu naranči koju ima Anica i koju ima Fran.

ANICA



FRAN

